

Tafel van 11

Naam: _____

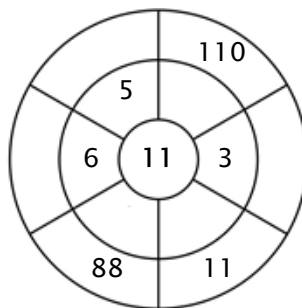
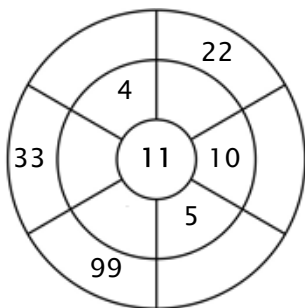
Oefening 1:

Kleur alle blokjes in die antwoorden van deze tafel zijn.

50	22	25	11	55
88	110	77	99	17
55	12	3	80	72
65	66	44	39	44
82	11	33	44	66

Oefening 2:

Vul de cirkels door de getallen van de middelste ring te vermenigvuldigen met het getal in het midden.



Oefening 3:

Geef de juiste antwoorden

a) $10 \times 11 =$ _____

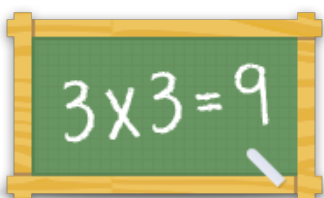
b) $4 \times 11 =$ _____

c) $8 \times 11 =$ _____

d) $3 \times 11 =$ _____

e) $5 \times 11 =$ _____

f) $7 \times 11 =$ _____



Voor meer werkbladen, spelletjes en oefeningen:
www.tafeldiploma.nl