

Tafel van 12

Naam: _____

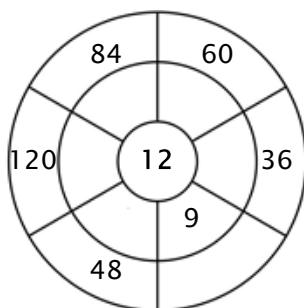
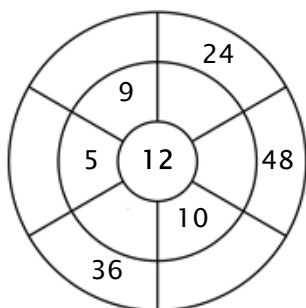
Oefening 1:

Kleur alle blokjes in die antwoorden van deze tafel zijn.

112	16	72	96	74
24	36	48	120	72
12	96	65	110	108
33	108	84	60	84
99	66	86	120	11

Oefening 2:

Vul de cirkels door de getallen van de middelste ring te vermenigvuldigen met het getal in het midden.



Oefening 3:

Geef de juiste antwoorden

a) $2 \times 12 =$ _____

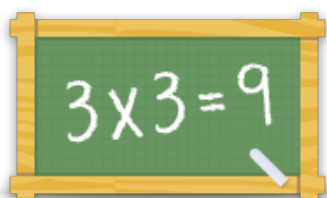
b) $4 \times 12 =$ _____

c) $5 \times 12 =$ _____

d) $8 \times 12 =$ _____

e) $6 \times 12 =$ _____

f) $10 \times 12 =$ _____



Voor meer werkbladen, spelletjes en oefeningen:
www.tafeldiploma.nl