

Tafel van 8

Naam: _____




Oefening 1:

Trek een lijn van de som naar het goede antwoord.

| | | |
|---------------|----|----|
| 2×8 | 64 | |
| 4×8 | | 24 |
| 5×8 | 80 | |
| 9×8 | | 72 |
| 3×8 | 48 | |
| 1×8 | | 40 |
| 10×8 | 56 | |
| 8×8 | | 16 |
| 6×8 | 8 | |
| 7×8 | | 32 |

Oefening 2:

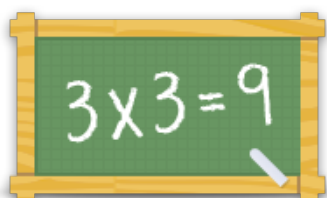
Vul het ontbrekende getal in.

- a)  $\times 8 = 40$ b)  $\times 8 = 64$ c)  $\times 8 = 16$

Oefening 3:

Geef de juiste antwoorden

- a) $10 \times 8 = \underline{\hspace{2cm}}$ b) $7 \times 8 = \underline{\hspace{2cm}}$ c) $9 \times 8 = \underline{\hspace{2cm}}$
d) $6 \times 8 = \underline{\hspace{2cm}}$ e) $4 \times 8 = \underline{\hspace{2cm}}$ f) $8 \times 8 = \underline{\hspace{2cm}}$



Voor meer werkbladen, spelletjes en oefeningen:
www.tafeldiploma.nl